

บทวน INTENSIVE 1 สำหรับ week 01 – 03

แบบฝึกหัด 1

ข้อ	A	B	C	$(A - B) - C$ แทนค่า	หาคำตอบ
1	3	4	-5		
2	-2	-1	3		
3	4	-7	-3		
4	-3	-6	-10		

แบบฝึกหัด 2

ข้อ	X	Y	Z	โจทย์	แทนค่า	หาคำตอบ
1	5	-2	2	$(X - Y) + Z$		
2	-4	-3	5	$(-X - Y) - Z$		
3	6	-7	-8	$(X + Y) - Z$		
4	-2	-4	-9	$(-X - Y) - Z$		
5	-3	4	-5	$Z - (-X - Y)$		
6	-2	-4	-9	$(X + Z) - Y$		



แบบฝึกหัด 3

ข้อ	A	B	C	AB - AC แทนค่า	หาคำตอบ
1	-9	7	4		
2	5	-3	-4		
3	-2	-2	-3		
4	3	-2	6		

แบบฝึกหัด 4 เรื่องการหารลงตัว

1. 2024 หารด้วย X ลงตัว?

2 = ___	4 = ___	3 = ___
5 = ___	8 = ___	9 = ___
10 = ___	6 = ___	12 = ___

2. 2567 หารด้วย X ลงตัว?

2 = ___	4 = ___	3 = ___
5 = ___	8 = ___	9 = ___
10 = ___	6 = ___	12 = ___

3. 326,339 หารด้วย X ลงตัว?

2 = ___	4 = ___	3 = ___
5 = ___	8 = ___	9 = ___
10 = ___	6 = ___	12 = ___

4. 1,000,000 หารด้วย X ลงตัว?

2 = ___	4 = ___	3 = ___
5 = ___	8 = ___	9 = ___
10 = ___	6 = ___	12 = ___

5. 123,456,781 หารด้วย 9 เหลือเศษเท่าไร? (ใช้เทคนิคที่ครูสอนเท่านั้น ไม่หารเลขแบบปกติ)

6. 444,887 หารด้วย 9 เหลือเศษเท่าไร? (ใช้เทคนิคที่ครูสอนเท่านั้น ไม่หารเลขแบบปกติ)



แบบฝึกหัด 4 เรื่องลำดับเลขคณิต

1. จงเขียนสูตรการหาจำนวนตัว

$$\text{จำนวนตัว} = \text{_____} + 1$$

2. ลิซ่านั่งนับเลขโดยเริ่มนับจากเลข 8 เพิ่มขึ้นทีละ 6 ไปเรื่อยๆ จำนวนลำดับที่ 16 คือตัวเลขอะไร

3. ครูฝ้ายพูดเลข 12 , 17 , 22 , 27 , ... ไปเรื่อยๆ อยากรู้ว่า จำนวนลำดับที่ 57 คือตัวเลขอะไร

4. ถ้าครูโอ พูดเลขตามนี้ 12 , 16 , 20 , 24 , ... , 208 ครูโอนับเลขไปทั้งหมดกี่ตัว

5. จำนวนตั้งแต่ 100 ถึง 250 มีจำนวนที่หารด้วย 5 ลงตัวมีกี่จำนวน

6. จำนวนระหว่าง 100 ถึง 250 มีจำนวนที่หารด้วย 5 ลงตัวมีกี่จำนวน



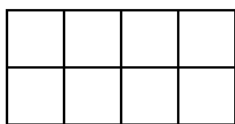
7. จำนวนตั้งแต่ 100 ถึง 250 มีจำนวนที่หารด้วย 2 และ 3 ลงตัวมีกี่จำนวน

8. จำนวนตั้งแต่ 100 ถึง 250 มีจำนวนที่หารด้วย 2 หรือ 3 ลงตัวมีกี่จำนวน

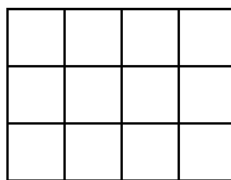
9. 100 , 105 , 110 , 115 , ... , 185 อยากรู้ว่า 185 คือตัวเลขลำดับที่เท่าไร

10. ลีชานิ่งนับเลข เริ่มจากเลข 5 เพิ่มทีละ 3 ไปเรื่อยๆ จนถึงเลข 62 อยากรู้ว่าเลข 62 เป็นจำนวนที่เท่าไรที่ลีชานิ่ง

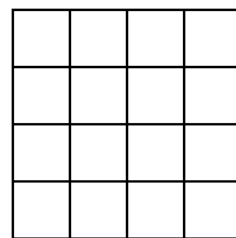
จากรูปด้านล่างตอบคำถามข้อ 11 - 12



โดะแกรมที่ 1



โดะแกรมที่ 2



โดะแกรมที่ 3

11. ถ้าครูฝ้ายจะเขียน โดะแกรมที่ 42 จะต้องใช้รูปสี่เหลี่ยมกี่รูป -----

12. ถ้าครูฝ้ายนับรูปสี่เหลี่ยมได้ทั้งหมด 84 รูป จะอยู่ในโดะแกรมที่เท่าไร -----

